

Musée Départemental de l'Ecole Publique

17330- Vergné

Examen du Certificat d'Etudes Primaires

Session du 16 novembre 2019



DICTÉE




Recueil de dictées du certificat d'études de 1941

Le jeu de cerceau

Louis avait descendu l'escalier de la maison, le cerceau accroché à son épaule. Une fois dans la rue, il s'était placé au milieu du trottoir, avait posé le cerceau bien droit, en le retenant légèrement avec les doigts de la main gauche. Puis il avait donné un coup sec. Le cerceau s'était échappé. La pointe du bâton l'avait rattrapé aussitôt pour le maintenir dans la bonne route et, depuis, Louis et le cerceau avaient couru l'un derrière l'autre : un peu comme un enfant courrait derrière un chien qu'il tiendrait en laisse ; un peu aussi comme un cavalier se laisse porter par son cheval, tout en ne cessant pas de l'exciter et de le guider.

Épreuve notée sur 10 pts



Musée Départemental de l'Ecole Publique
17330- Vergné

Examen du Certificat d'Etudes Primaires
Session du 16 novembre 2019

Temps :
25 min



QUESTIONS de DICTÉE



I Expliquez

A quoi compare-t-on le cerceau ? Inventez une autre comparaison possible.

II Vocabulaire


Sens de l'expression « un coup sec » ; donnez 2 mots de la famille de cerceau.

III Conjugaison

- A quel temps est le verbe « courrait » ? (comme un enfant courrait derrière un chien.

IV Analyse

Analysez « avait rattrapé » puis analysez les compléments qui s'y rapportent.



Musée Départemental de l'Ecole Publique

17330- Vergné

Examen du Certificat d'Etudes Primaires

Session du 16 novembre 2019

Temps :
50 mn

◆◆◆◆
RÉDACTION

Sujet I : guide pratique du certificat d'études 1903.


C'est mercredi ; le maître annonce pour l'après-midi, une promenade scolaire.
Les élèves sont joyeux... Seul, le petit Louis, infirme, a les larmes aux yeux...
Les camarades le voient et brusquement leur gâité tombe. – Que fait-on ?

~~~~~

**Sujet II :** Normandie juin 1959

Vous écrivez à un ami qui vous donne un chat (ou un chien).  
Vous le mettez au courant des progrès que fait l'animal.

*Épreuve notée sur 10 pts*



*Examen du Certificat d'Études Primaires*

*Session du 16 novembre 2019*

Temps :  
50 min



**CALCUL**



**Problème n°1** (sur 6 pts) - Dordogne 1956

Votre classe a acheté 3 boîtes de 100 plumes à 280 F le cent. Le papetier a consenti une remise de 10%.

- 1) Combien votre classe a-t-elle payé net ?
- 2) Elle vend les 3 plumes 10F. Quel est son bénéfice ?

**Problème n°2** (sur 14 pts) - Lot 1957

Une cour rectangulaire a 90m de périmètre. La longueur a 11m de plus que la largeur.


Trouver :

- 1) Les dimensions et la surface de la cour.

Sur les 3 côtés (1 longueur et 2 largeurs) on établit un trottoir de 1m de large et l'on répand 20,8m<sup>3</sup> de sable sur la partie centrale de la cour.

Après avoir fait un dessin représentant la cour et son aménagement, trouver :

- 2) La surface de la partie sablée.
- 3) L'épaisseur du sable en cm.
- 4) La surface du trottoir.
- 5) Le prix du sable à 600 F le m<sup>2</sup>.
- 6) Le nombre de voyages nécessaires pour transporter ce sable si un camion peut transporter 5,2 m<sup>3</sup> de sable.



# Musée Départemental de l'École Publique

17330- Vergné

## *Examen du Certificat d'Études Primaires*

*Session du 16 novembre 2019*



### HISTOIRE



Temps :  
10mn

Haute Vienne - Limoges 16 juin 58

- Que signifie : enseignement gratuit, obligatoire, laïque ?

.....  
.....  
.....


- Quel gouvernement établit cet enseignement en France ?

.....

- Quel ministre fit voter les lois organisant cet enseignement et à quelles dates ?

.....


*Épreuve notée sur 5 pts*



*Examen du Certificat d'Etudes Primaires*  
*Session du 16 novembre 2019*

Temps:  
10 mn

◆◆◆◆  
**GÉOGRAPHIE**  
◆◆◆◆



Centre d'Epinal juin 1958


- Les régions vosgiennes et bretonnes sont à la même latitude. Que ce que cela veut dire ?

.....  
.....

- Ont-elles le même climat ? .....

- Expliquez

.....  
.....  
.....



# Musée Départemental de l'Ecole Publique

17330- Vergné

Temps :  
15 mn

## *Examen du Certificat d'Etudes Primaires*

*Session du 16 novembre 2019*



**SCIENCES** garçons et filles



Nouveau certificat d'études primaires – Avril 1958

- 1) Quels sont les aliments indispensables à la vie des plantes ?  
(3 réponses attendues)

.....  
.....

- 2) Le paludisme. Comment s'en défend-on ? (2 réponses attendues)

.....  
.....

- 3) **Question au choix :**

Dans votre maison en actionnant l'interrupteur, l'ampoule ne s'allume pas.  
Quelles peuvent-être les causes de la panne ? (2 réponses attendues)

.....  
.....

*Ou*

Comment rendre potable une eau suspecte ? Donnez au moins deux solutions.

.....  
.....

*Épreuve notée sur 10 pts*